


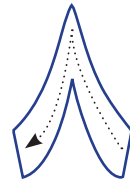
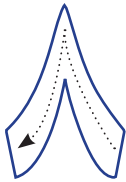
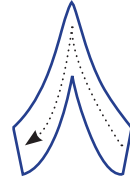
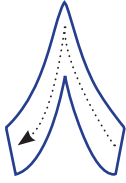
التاريخ / /



أبواب الجنة

ثمانية

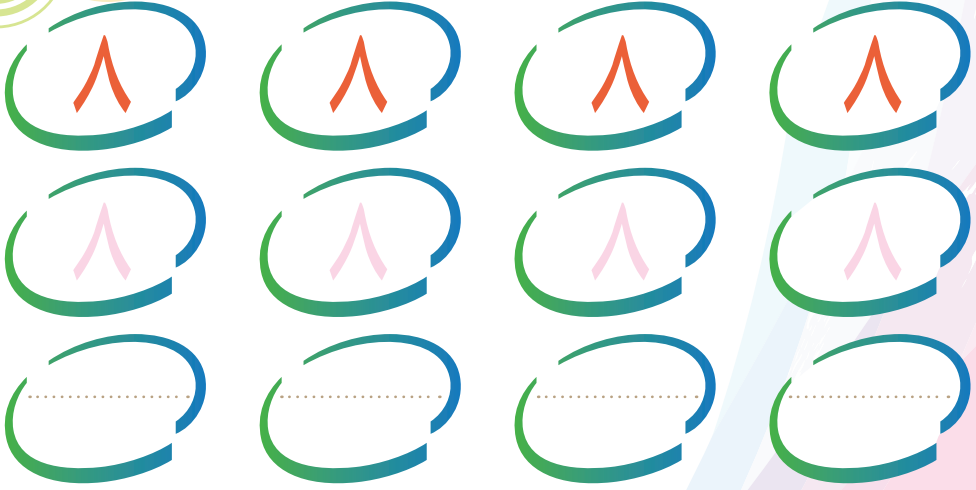
لَوْنٌ



يعرف الطفل أن عدد أبواب الجنة ثمانية

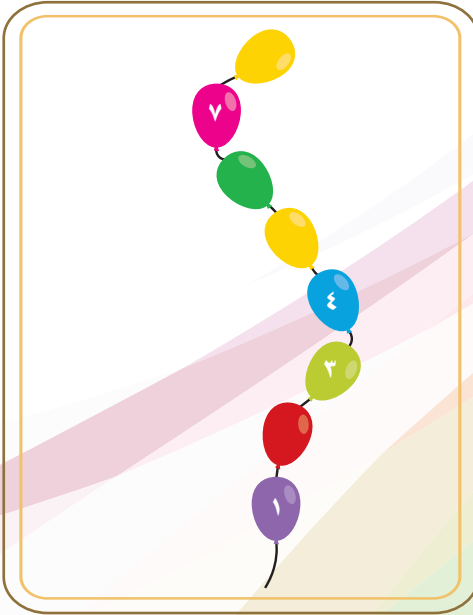
التاريخ / /

اكتب:



أكمل الأعداد:

عد ثم اكتب الرقم الصحيح:



ضرب الطفل علي عناده يؤدي إلي استمراره